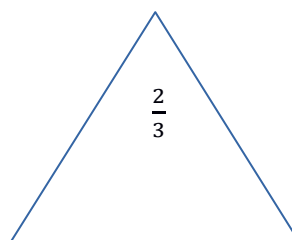
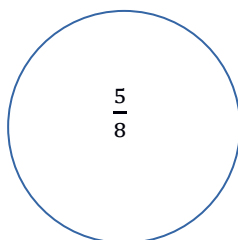
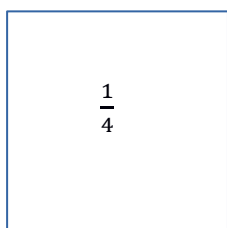


Дата 15.05.24 Класс 5 Предмет: математика

Тема: «Повторение. Решение задач на дроби».

Здравствуйте. Откройте тетради, запишите число, классная работа, тему урока.

1. Начертите фигуры и закрасьте указанную часть



2. Устная работа (запишите только ответы)

а) Найди: $\frac{1}{2}$ от 80; $\frac{3}{5}$ от 60; $\frac{4}{11}$ от 77; $\frac{2}{7}$ от 21; $\frac{5}{9}$ от 18; .

б) Вырази: $\frac{1}{5}$ ч = ? мин; $\frac{1}{2}$ т = ? ц; $\frac{7}{10}$ дм = ? см; $\frac{3}{20}$ т = ? кг.

3. Выполни задание на повторение (письменно)

$$\frac{1}{12} + \frac{2}{12} =$$
$$\frac{47}{10} - \frac{3}{5} =$$
$$\frac{49}{16} \cdot \frac{4}{7} =$$
$$\frac{54}{100} : \frac{27}{10} =$$

Гимнастика для глаз

1. Быстро поморгать, закрыть глаза и посидеть спокойно, медленно считая до 5. Повторять 4 – 5 раз.

2. Крепко зажмурить глаза (считать до 3, открыть их и посмотреть вдаль (считать до 5)). Повторять 4 – 5 раз.

4. Посмотрите видео по ссылке

<https://yandex.ru/video/preview/9758750772208405631>

5. Оформите решение задач в тетради (краткая запись или чертеж, решение, ответ)

№1. На ветке сидели 12 птиц; $\frac{3}{4}$ их числа улетело. Сколько птиц улетело?

№2. $\frac{3}{5}$ всех деревьев в парке составляют липы. Сколько всего деревьев в парке, если лип — 21?

№3. В книге 120 страниц. Маша прочитала в первый день $\frac{2}{3}$ всех страниц книги, а во второй — одну четверть оставшихся страниц. Сколько страниц ей осталось прочитать?

№4. В прошлом месяце цена товара составляла 90 р. Теперь она понизилась на $\frac{1}{10}$ этой суммы. Какова теперь цена товара?

Отчет прислать в Telegram или VK Мессенджер по № тел. 89058403052.