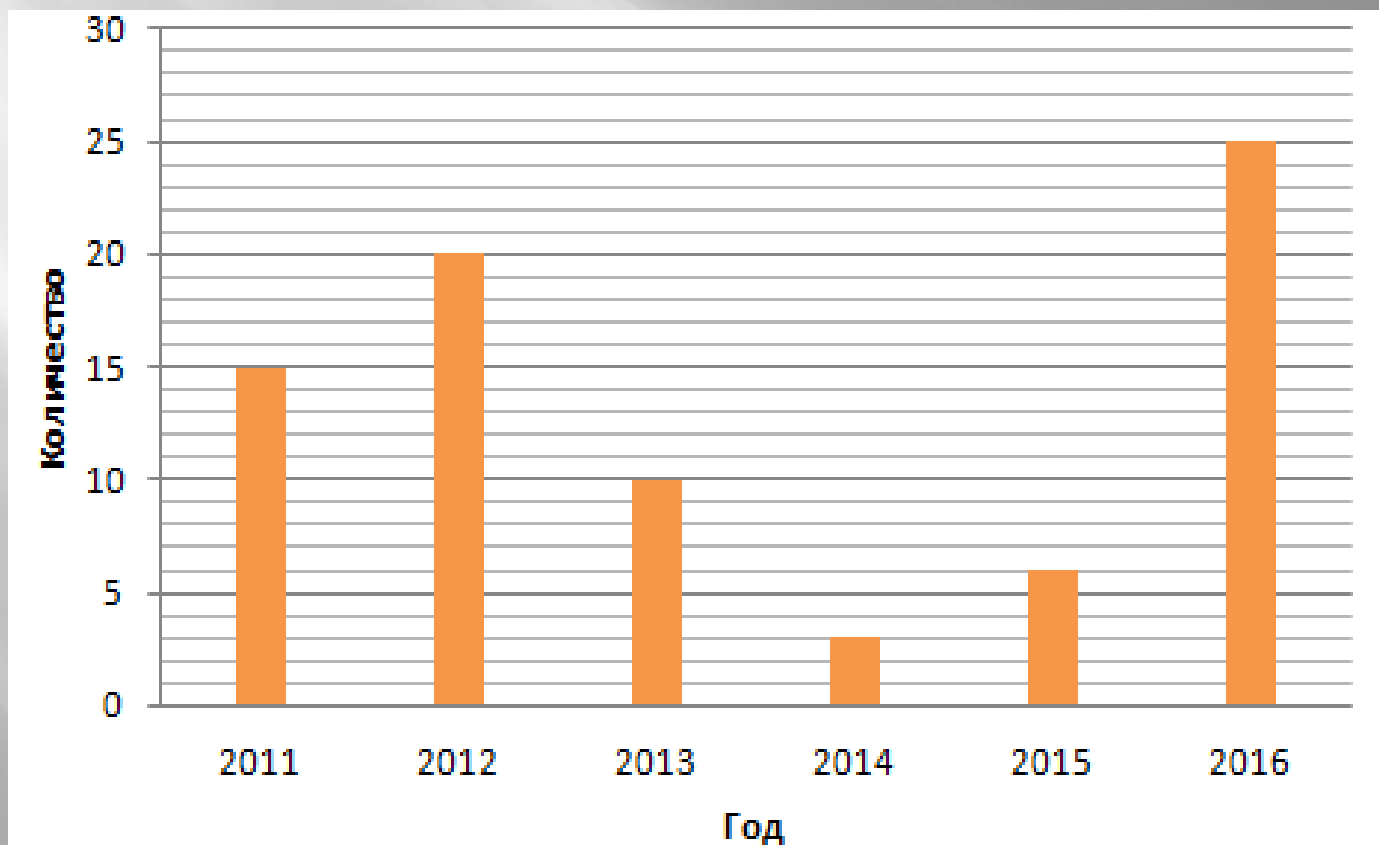


- ▣ Дата 15.05.24 Класс 7 Предмет: математика  
(вероятность и статистика)
- ▣ **Тема:** «Повторение. Представление данных  
Описательная статистика».
- ▣ Здравствуйте. Откройте тетради, запишите  
число, классная работа, тему урока.

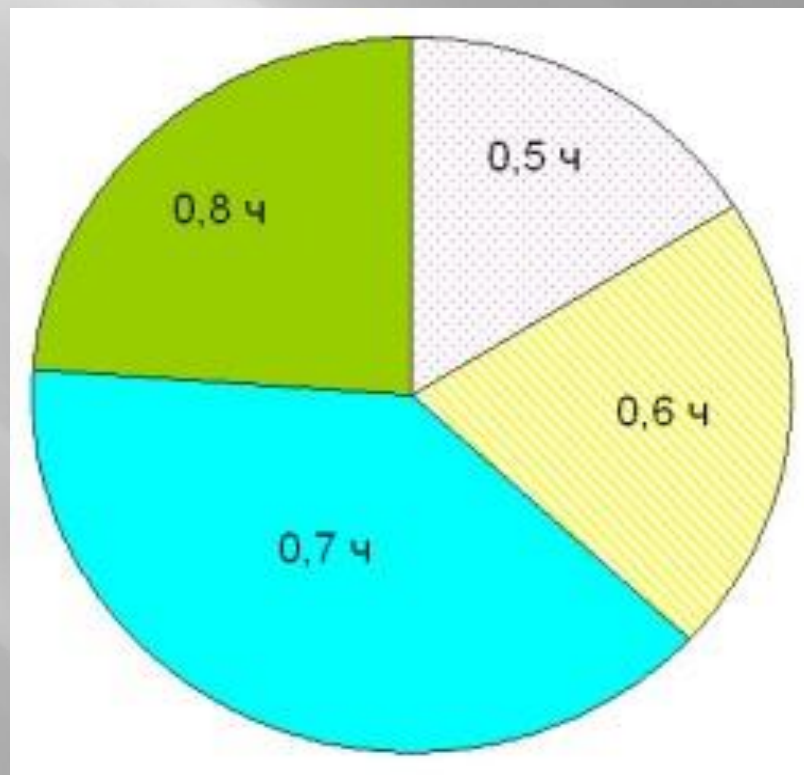
# Повторим материал по теме: «Представление данных»

- ▣ Таблицы - самый простой способ упорядочить данные (численные, информационные). Они помогают восприятию большого количества данных.
- ▣ Различают три **вида** статистических **таблиц**: простые групповые комбинационные.  
Простые **таблицы** содержат перечень отдельных единиц, входящих в состав совокупности анализируемого экономического явления. В групповых **таблицах** цифровая информация в разрезе отдельных составных частей исследуемой совокупности данных объединяется в определенные группы в соответствии с каким-либо признаком.

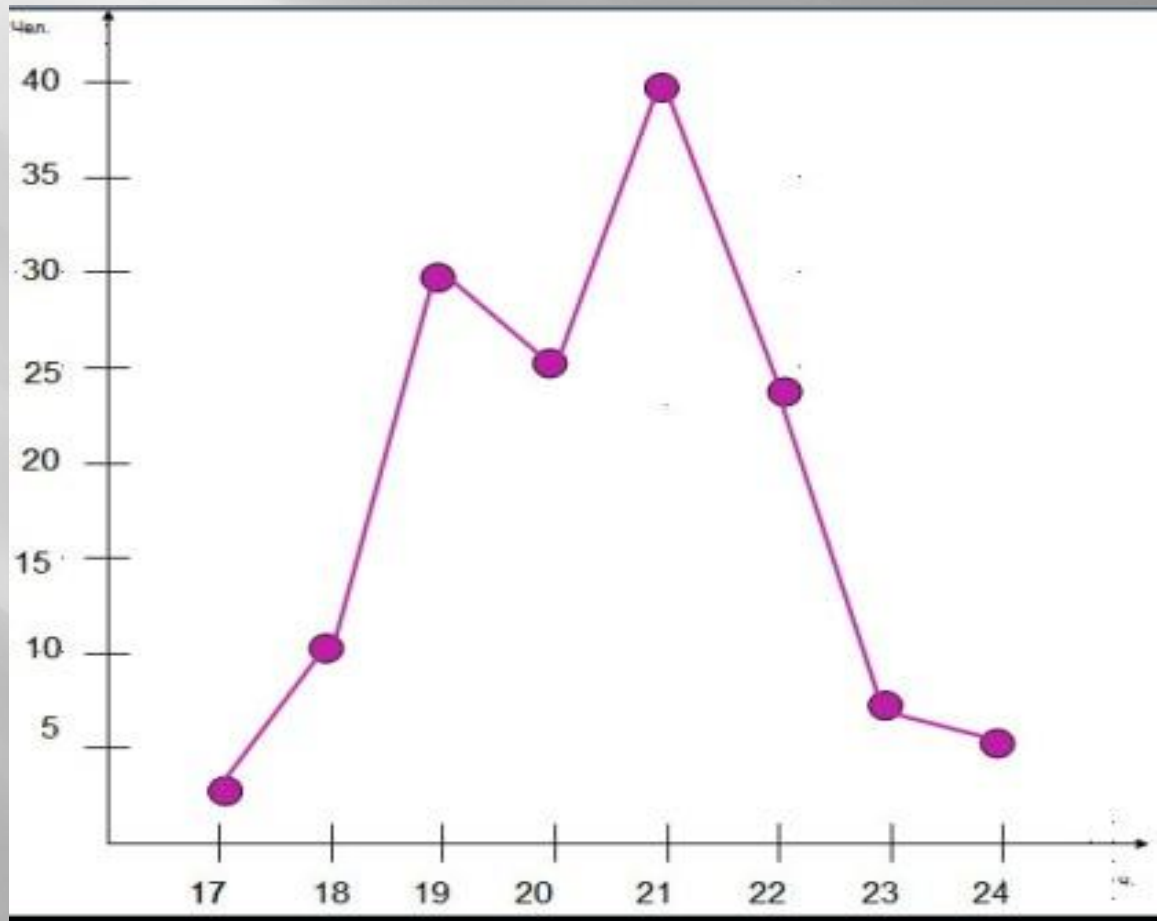
- ▣ Чтобы наглядно отразить динамику изменения данных во времени или распределение данных, полученных при изучении статистических исследований, обычно используют **Столбчатую диаграмму**.



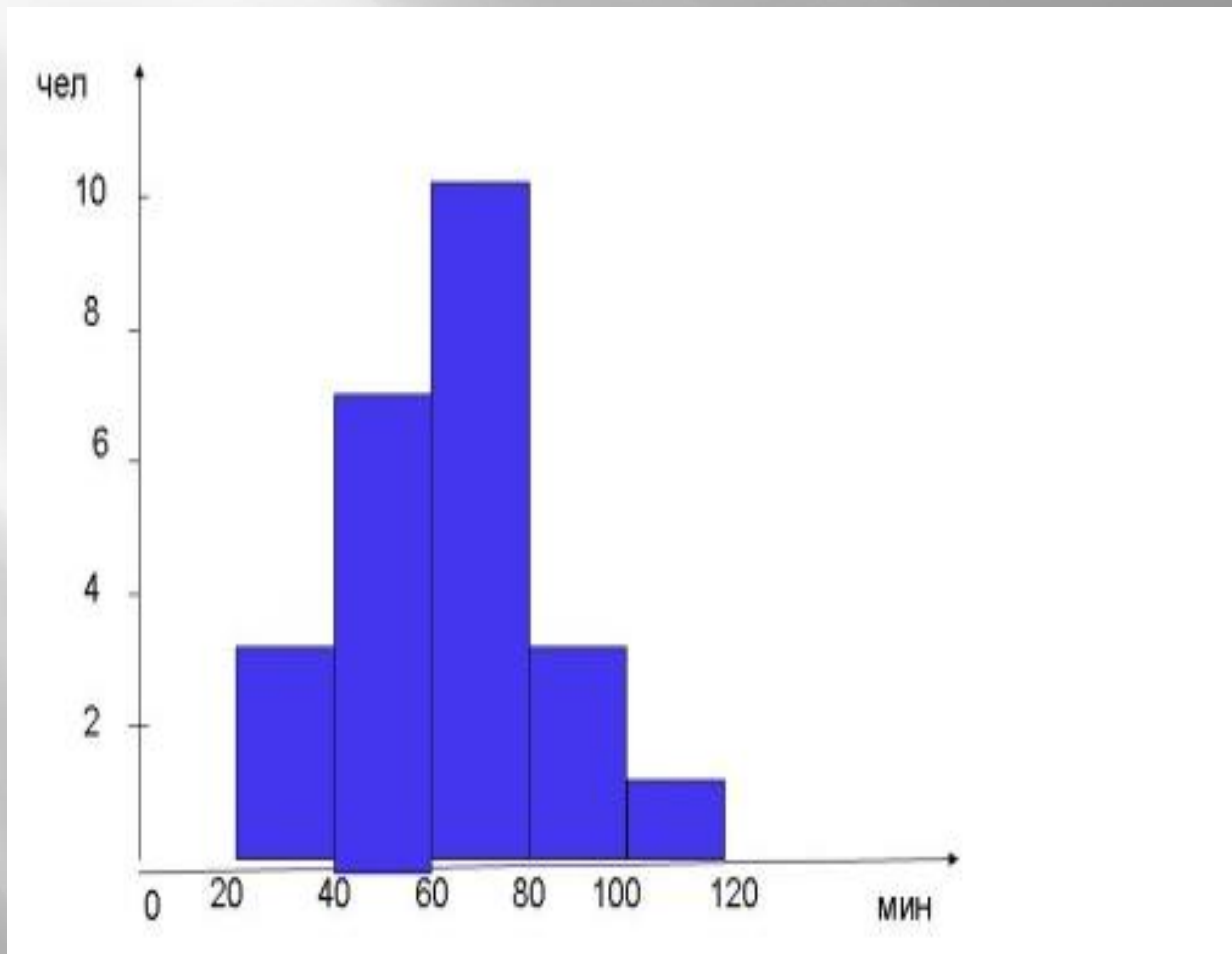
- ▣ В тех случаях, когда нужно показать графически соотношение между частями исследуемой совокупности, лучше применить **Круговую диаграмму**.



- ▣ Для ситуации, в которой необходимо отразить динамику изменения статистических данных во времени используют другой вид диаграммы – **Полигон.**



- ▣ Для количественного соотношения некоторого показателя используют обычно гистограмму.



# Посмотрите видео по ссылке

- ▣ <https://yandex.ru/video/preview/9654479222507835356>
- ▣ <https://yandex.ru/video/preview/15034694368244611965>

## ▣ Гимнастика для глаз

- ▣ 1. Быстро поморгать, закрыть глаза и посидеть спокойно, медленно считая до 5. Повторять 4 – 5 раз.
- ▣ 2. Крепко зажмурить глаза (считать до 3, открыть их и посмотреть вдаль (считать до 5)). Повторять 4 – 5 раз.



# Задания для самостоятельной работы

- ▣ Составить таблицу «Доходы и расходы семьи»
- ▣ Построить диаграмму «Режим дня»

Отчет прислать в Telegram или VK Мессенджер по

№ тел. 89058403052.